

Matteprøve for 5. trinn våren 2026

① Sett tallene under hverandre og regn ut:

a) $369 + 151$ b) $3,6 + 10,2$ c) $1469 - 379$ d) $432,4 - 323,13$

② $\begin{array}{r} 32 \\ \times 3 \\ \hline 96 \end{array}$ (Eksempel)

$\frac{12 \cdot 6}{\quad}$

$\frac{45 \cdot 3}{\quad}$

$\frac{96 \cdot 2}{\quad}$

$\frac{962 : 4}{\quad}$

Regn ut

$2 \times \quad = 8$	$3 \times 8 = \quad$	$\quad \times 10 = 50$
$8 \times 7 = \quad$	$4 \times \quad = 28$	$\quad \times 10 = 50$
$2 \times 10 = \quad$	$6 \times \quad = 30$	$6 \times \quad = 12$
$10 \times 5 = \quad$	$\quad \times 2 = 20$	$6 \times 3 = \quad$
$\quad \times 5 = 45$	$2 \times \quad = 18$	$5 \times \quad = 35$

Skriv tallene i rekkefølge. Start med det største.

a

b

Skriv brøkene i rekkefølge. Start med den minste.

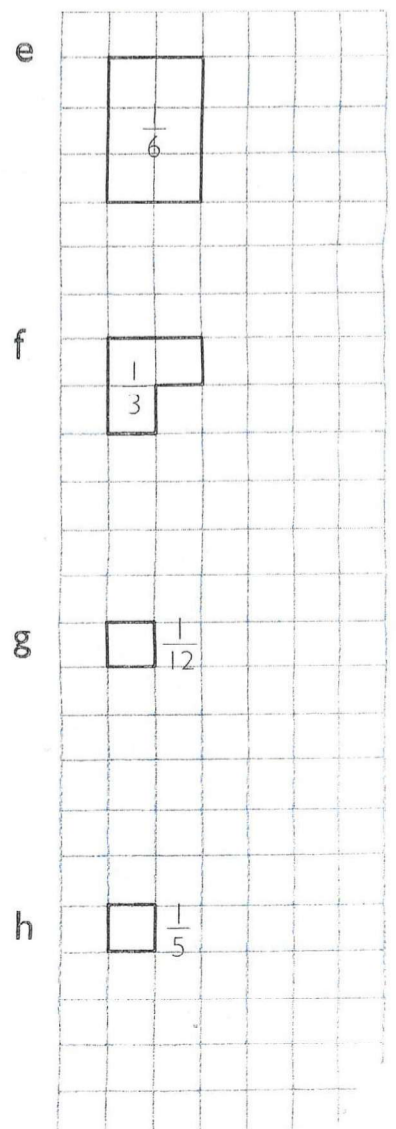
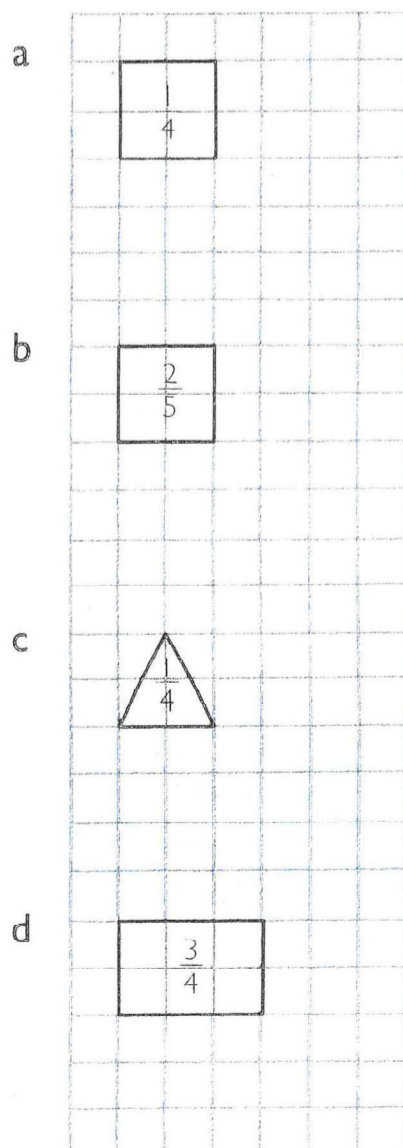
a

$\frac{6}{12}$	$\frac{5}{12}$	$\frac{8}{12}$
$\frac{7}{12}$	$\frac{11}{12}$	

b

$\frac{9}{11}$	$\frac{9}{15}$	$\frac{9}{14}$
$\frac{9}{12}$	$\frac{9}{20}$	

Tegn hele figuren.



b Lag tallpar som blir 4,0.

$1,6 + 2,4 = \underline{4,0}$

Tabellen viser medaljeoversikten etter vinter-OL i 2006.



Land	Gull	Sølv	Bronse
Sverige	7	2	5
Tyskland	11	12	6
USA	9	9	7
Norge	2	8	9
Russland	8	6	8
Kina	2	4	5
Sør-Korea	6	3	2

- Hvilket land vant flest medaljer til sammen?
- Hvor mange flere gull tok Sverige enn Norge?
- Hvilke land vant tre ganger så mange gullmedaljer som bronsemedaljer?
- Hvilke land tok like mange gull som sølv og bronse til sammen?
- Lag en resultatliste over landene etter hvor mange medaljer de tok.

a)

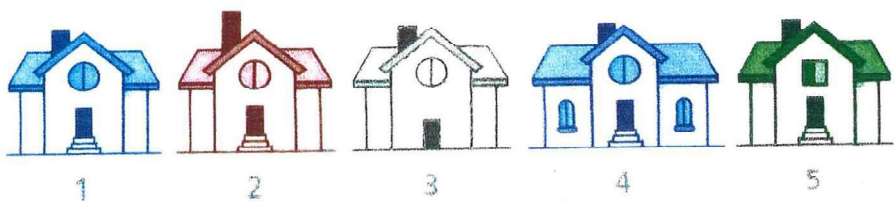
b)

c)

d)

e)

Gjett huset



Hvilken setning sier noe sikkert om hvor Simen bor? Sett strek under riktig svar.

- Simen bor i et hus med vindu.
- Simen bor i et hus med oddetall-nummer.
- Simen bor i det første huset.

En voksen rev veier 12 kg.
Det er fire ganger så mye som en reveunge veier.

Hvor mye veier reveungen?

På Toppen skole er det seks femteklasser.
Til sammen er det 168 elever på femte trinn.
Det er like mange elever i hver klasse.

- Hvor mange elever er det i hver klasse?

- 55 En dag var det 100 personer inntil et badeland. Dagen etter var det fire ganger så mange på badelandet.

Hvor mange besøkte badelandet til sammen disse to dagene?

5.41 Skriv to klokkeslett til hver klokke. Skriv svarene som på ei digital klokke.




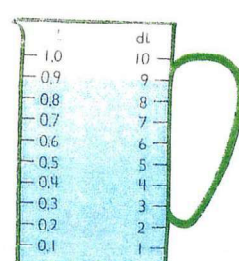
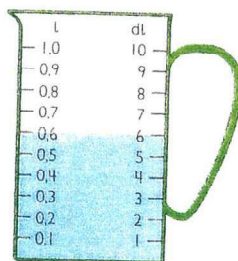
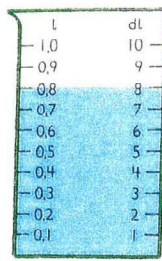

:
:

:
:

:
:

:
:

:
:



Hvor mange dl og l er det i litermålene.

- 8 Legg sammen. Skriv som dl og som l.

a $4 \text{ dl} + 3 \text{ dl}$

c $7 \text{ dl} + 6 \text{ dl}$

e $5 \text{ dl} + 2 \text{ l}$

b $5 \text{ dl} + 8 \text{ dl}$

d $1 \text{ l} + 4 \text{ dl}$

f $13 \text{ dl} + 9 \text{ dl}$